

Lektion 7

Aufgabe 1 Schreibe die parallelen Tonarten (Moll oder Dur) von:

C-Dur		a-moll		a-moll		C-Dur	
#	moll	b	moll	#	Dur	b	Dur
G-Dur	e	F-Dur	d	e-moll	G	d-moll	F
D-Dur	h	B-Dur	g	h-moll	D	g-moll	B
A-Dur	fis	Es-Dur	c	fis-moll	A	c-moll	Es
E-Dur	cis	As-Dur	f	cis-moll	E	f-moll	As
H-Dur	gis	Des-Dur	b	gis-moll	H	b-moll	Des
Fis-Dur	dis	Ges-Dur	es	dis-moll	Fis	es-moll	Ges



Korrigiere die Fehler! Setze die richtige parallele Tonart ein!

G-Dur	?h-moll	e...-moll	f-moll	?A-Dur	As...-Dur
F-Dur	?c-moll	d...-moll	h-moll	?Des-Dur	D...-Dur

Aufgabe 2

Bestimme die folgenden Intervalle (rein, gross, übermässig), bzw. ergänze den fehlenden Ton nach oben. Bestimme zuerst die Notennamen, dann die Intervalle!

Namen d⁴-d⁴ d⁴-fis⁴ d⁴-ais⁴ d⁴-g⁴ d⁴-h⁴ d⁴-gis⁴ d⁴-e⁴ d⁴-dis⁴

Intervall r8 g3 ü.5 r4 g.6 ü.4 g.2 ü.8

Namen Es-e Es-G Es-B Es-ais Es-dis es-b es-ais¹ es-gis

Intervall ü.8 g3 r.5 ü.6 ü.7 r.5 ü.6 ü.3

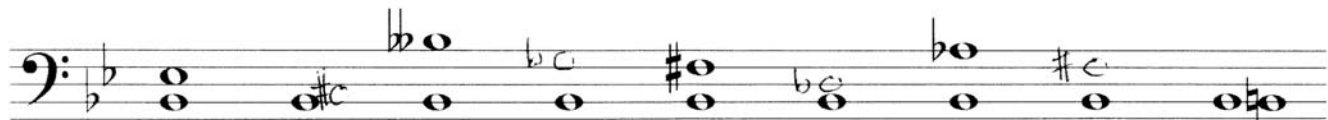
Aufgabe 3

Bestimme die folgenden Intervalle (rein, gross, klein, übermässig), bzw. ergänze den fehlenden Ton nach oben. Bestimme zuerst die Notennamen, dann die Intervalle!



Namen g^1-d^2 g^1-c^2 g^1-es^2 g^1-es^2 g^1-f^2 g^1-b^1 g^1-h^1 g^1-cis^2 g^1-dis^2

Intervalle v.5 r.4 k.6 k.6 k.7 kl.3 g.3 ü.4 ü.5

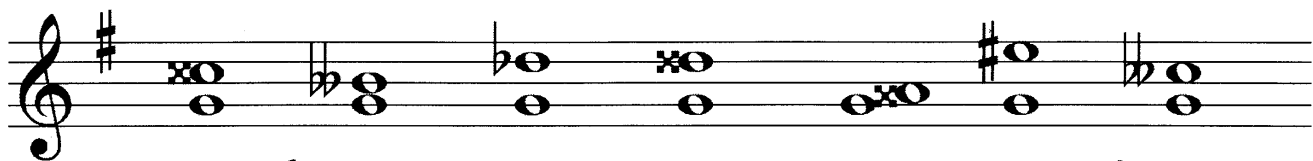


Namen $B-es$ $B-cis$ $B-heses$ $B-ges$ $B-fis$ $B-dis$ $B-gs$ $B-fs$ $B-H$

Intervalle v.4 ü.2 v.8 kl.6 ü.5 kl.3 k.7 ü.5 ü.1

Aufgabe 4

Bestimme die folgenden Intervalle! Bestimme zuerst die Notennamen, dann die Intervalle!



Namen $g^1-cisis^2$ $g^1-heses^1$ g^1-des^2 $g^1-disis$ $g^1-aisis^1$ g^1-eis^2 $g^1-ceses^2$

Intervalle d.ü.4 v.3 v.5 d.ü.5 d.ü.2 ü.6 d.v.4

Trage die folgenden Intervalle ein. Bestimme auch die Notennamen!




Intervalle v.3 d.ü.4 v.6 ~~v.2~~ d.ü.5 v.7 d.ü.8

Namen $g^1-heses^1$ $g^1-cisis^2$ g^1-eses^2 g^1-asas^1 $g^1-disis^2$ g^1-fes^2 $g^1-qisis^2$




Aufgabe 5

Bestimme die folgenden Intervalle oder trage sie ein (alle nach oben)! Bestimme zuerst die Notennamen, dann die Intervalle!



Namen f^1-c^2 f^1-e^2 c^2-fis^2 d^1-f^1 a^1-c^2 f^1-b^1 $h-f^1$ a^1-h^1
 Intervalle r5 g.7 ü4 k.3 k3 r.4 v5 g.2




Namen $f-f^1$ $E-fis$ $A-H$ $H-g$ $e-fes$ $A-B$ $G-c$ $ces-es$
 Intervalle v8 ü.5 g2 g.6 v2 k.2 v4 g.3



Namen h^1-a^2 fis^1-h^1 f^2-b^2 h^1-fis^2 g^1-f^2 c^1-es^1 e^2-f^2 h^1-dis^2
 Intervalle k7 r.4 v4 r.5 k7 ü.3 k2 g.2

Bestimme nun noch diese Intervalle. Schreibe die Noten auf!

Namen e^1 as^1 g^1-c^2 h^1-f^2 es^2-b^1 fis^2-g^1 f^1-d^2 es^2-es^1
 Intervalle r4 r4 v.5 r4 k2 gb r8